



	1-		4-	
COMPONENTES/Nº	2-		5-	
	3-		6-	

CIRCUITOS PROCEDIMENTOS MEDIDAS E ANÁLISES

CPMA1 – Relacionar as grandezas com sua respectiva unidade.

Capacitância	1
Condutância	2
Frequência	3
Indução magnética	4
Indutância	5
Potência	6
Resistência elétrica	7

	Ω
	H
	W
	F
	S
	Hz
	T

CPMA2-Os terminais de um transistor são chamados de:

- Dreno / Porta / Fonte Coletor / Base / Emissor

CPMA3-Responda a alternativa onde o plural está correto

- Quilômetros por horas Quilômetros por hora

CPMA4-Resistor sua principal função é:

- Armazenar energia Limitar a corrente

CPMA5- As unidades Mega e Nano podem ser representadas na notação científica como:


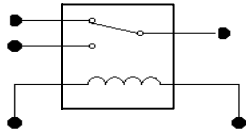
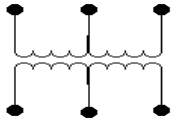


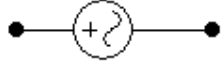
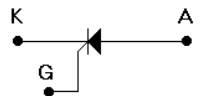
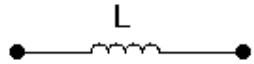
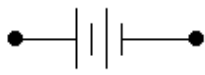
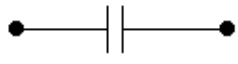


- 10^6 e 10^9 10^{-6} e 10^{-9}

CPMA6-Transformar o que se pede

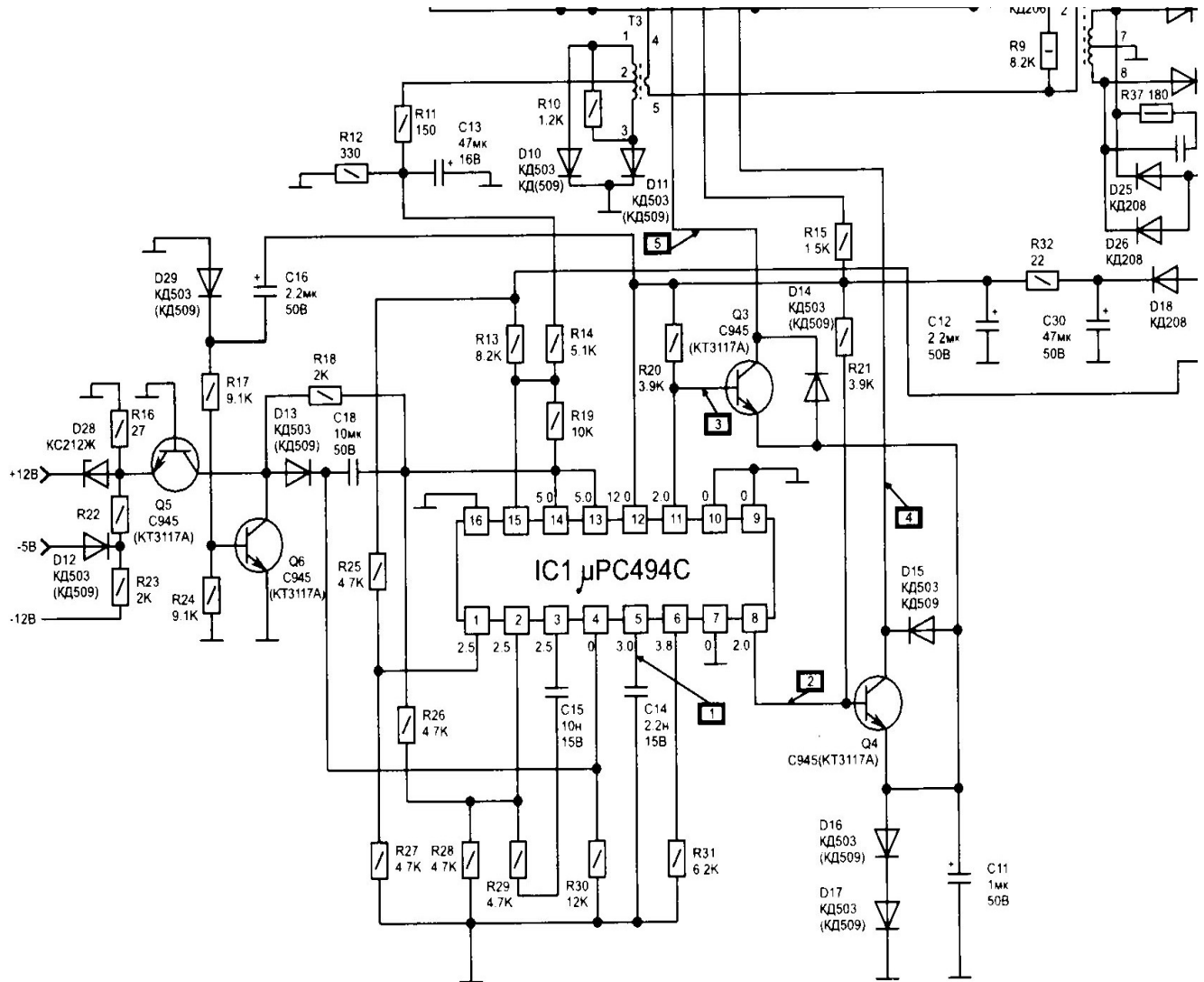
	Grandeza	Transformar em	Resposta
A	0,005V	De volt para milivolt	
B	0,25mV	De milivolt para microvolt	
C	5400W	De watt para quilowatt	
D	0,0001225A	De ampére para microampére	
E	120pF	De picofarad para nanofarad	
F	4500 μ V	De microvolt para volt	
G	0,1A	De ampére para miliampére	
H	1000000V	De volt para megavolt	
I	10000 Ω	De ohm para quiloohm	

CPMA7 – Relacionar o nome do componente ao símbolo elétrico da lista abaixo:

RESISTOR	1
CAPACITOR	2
DIODO	3
TRANSISTOR	4
BATERIA	5
TRANSFORMADOR	6
FUSÍVEL	7
RELÉ	8
LED	9
INDUTOR	10
SCR	11
FONTE AC	12

CPMA8 – Dado o circuito abaixo circule os componentes listados na tabela abaixo do circuito e logo após anotar a sua especificação na mesma tabela.



Componente	Especificação
A	Q4
B	R26
C	IC1
D	R32
E	D10

CPMA9 – Anotar as cores e determinar o valor nominal e a tolerância de cada resistor fornecido através do código de cores anotando os valores encontrados na tabela abaixo:

		1ª Faixa	2ª Faixa	Nº Zeros	Tolerância	VALOR DO RESISTOR
R1	COR					
	VALOR					
R2	COR					
	VALOR					
R3	COR					
	VALOR					
R4	COR					
	VALOR					
R5	COR					
	VALOR					

CPMA10- Na tabela abaixo copie o valor nominal encontrado acima e calcular o valor Máximo e Mínimo das tolerâncias para cada valor dos resistores lidos na tabela anterior usando a formula abaixo:

Valor Máximo (+) = Valor do Resistor (N) X _____

Valor Mínimo (-) = Valor do Resistor (N) X _____

R1	+		R2	+		R3	+		R4	+		R5	+	
	N			N			N			N			N	
	-			-			-			-			-	

CPMA11 – Determinar os valores dos resistores de 4 faixas abaixo:

		1ª Faixa	2ª Faixa	Nº Zeros	Tolerância	VALOR DO RESISTOR
A	COR	Marrom	Preto	Vermelho	Ouro	
	VALOR					
B	COR	Vermelho	Vermelho	Preto	Ouro	
	VALOR					
C	COR	Laranja	Branco	Ouro	Ouro	
	VALOR					
E	COR	Amarelo	Violeta	Prata	Ouro	
	VALOR					

CPMA12–Determinar os valores dos resistores de 5 faixas abaixo:

		1ª Faixa	2ª Faixa	3ª Faixa	Nº Zeros	Tolerância	VALOR DO RESISTOR
A	COR	Marrom	Amarelo	Verde	Laranja	Marrom	
	VALOR						
B	COR	Azul	Verde	Cinza	Preto	Vermelho	
	VALOR						
C	COR	Laranja	Azul	Laranja	Ouro	Verde	
	VALOR						
D	COR	Amarelo	Violeta	Preto	Prata	Marrom	
	VALOR						